

ВСЕРОССИЙСКАЯ ОЛИМПИАДА ШКОЛЬНИКОВ ПО ОСНОВАМ
БЕЗОПАСНОСТИ ЖИЗНЕДЕЯТЕЛЬНОСТИ
(МУНИЦИПАЛЬНЫЙ ЭТАП)
ТЕОРЕТИЧЕСКИЙ ТУР
возрастная группа (7-8 классы)

МОДУЛЬ 1

ЗАДАНИЕ 1.

Спокойно пойти ~~в~~ туда и закрыть газ,
позвонить пожарным и проветрить помещение.

Оценочные баллы: максимальный – 10 баллов; фактический – 4 баллов

Подписи членов жюри

ЗАДАНИЕ 2

Оценочные баллы: максимальный – 5 баллов; фактический – _____ баллов

Подписи членов жюри

ЗАДАНИЕ 3

А	Б	В	Г	Д
2	1	2	2	1

Оценочные баллы: максимальный – 10 баллов; фактический – 8 баллов

Подписи членов жюри

Вет

ЗАДАНИЕ 4

Заполните таблицу «Социальные опасности по природе и форме воздействия на человека»

Примеры	Виды социальных опасностей по природе и форме воздействия на человека
Шантаж, мошенничество, воровство	опасности связанные с психическим воздействием на человека.
Разбой, бандитизм, террор, изнасилование, заложничество	опасности связанные с физическим насилием.
Наркомания, алкоголизм, курение	опасности связанные с воздействием веществ и разрушение организма.
СПИД, венерические заболевания, туберкулез	опасности связанные с болезнями.

Дайте определение

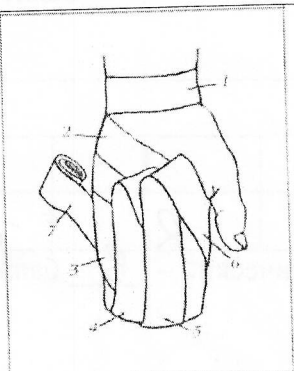
Бандитизму - это вид преступности, совершаемой преступниками как правило с угрозой применения насилия или его применением.

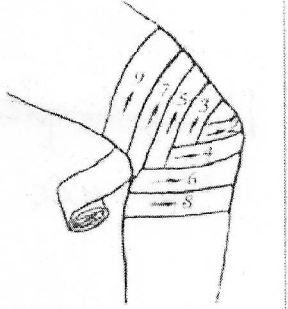
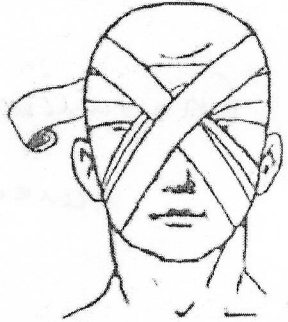
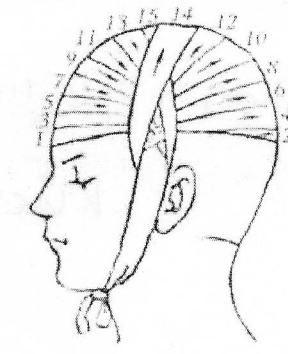
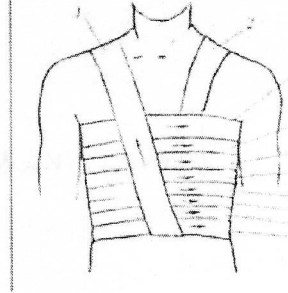
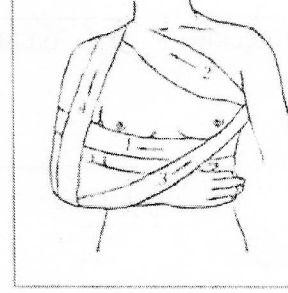
Оценочные баллы: максимальный - 10 баллов; фактический - 4 баллов

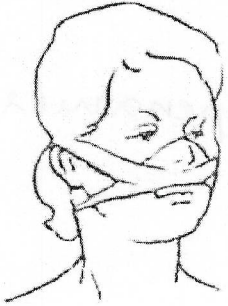
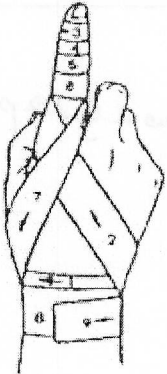
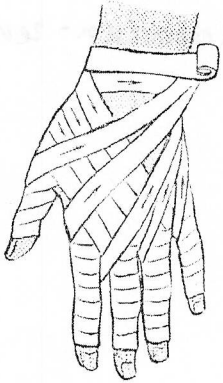
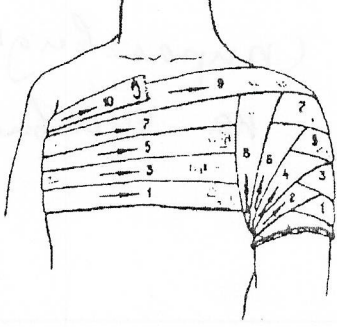
Подписи членов жюри

ЗАДАНИЕ 5

Заполните таблицу «Виды повязок»

№	Рисунок повязки	Название повязки
1		Варезка 1

2			<p>Веревчатая</p> <p style="text-align: right;">1</p>
3			<p>Бинocularная</p>
4			<p>Мансуэти-головы</p>
5			<p>Спиралевидная на туловище</p> <p style="text-align: right;">-</p>
6			<p>Дезо</p> <p style="text-align: right;">1</p>

7		<p>Прямовидна На нос</p> <p style="text-align: right;">1</p>
8		<p>Спирална на палец</p> <p style="text-align: right;">1</p>
9		<p>Крестообразна на киста.</p>
10		<p>На плече</p>

Оценочные баллы: максимальный – 10 баллов; фактический – 5 баллов

Подписи членов жюри



За Модуль 1 – 40 баллов

МОДУЛЬ 2
Тестовые задания

№	Вопрос	Ответ
<p>Определите один правильный ответ За каждый правильный ответ начисляется по 2 балла</p>		
1	<p>1. Вы почувствовали в квартире запах газа. По какому номеру телефона нужно вызвать специалистов по стационарному телефону? А) 03; Б) 04; В) 02.</p>	<p>Б 2 +</p>
2	<p>Химические и биологические средства, используемые для борьбы с вредителями и болезнями растений, с сорной растительностью называются: А) тяжелые металлы; - Б) удобрения; В) пестициды; Г) детергенты</p>	<p>В 2 +</p>
3	<p>Какой буквой обозначается север на компасах? А) S; Б) N; В) W; Г) E.</p>	<p>Б 2 +</p>
4	<p>Что такое эпидемия? А) инфекционные заболевания среди людей; Б) заразные болезни среди животных; В) заразные болезни среди растений; Г) отравление вредными веществами; Д) инфекционное заболевание, переносчиком которого является большая панда (бамбуковый медведь).</p>	<p>А 2 +</p>
5	<p>Где наиболее безопасно находиться во время грозы? А) на возвышенности; Б) у входа в пещеру; В) среди невысоких деревьев с густыми кронами; Г) в скальной яме</p>	<p>Г -</p>
6	<p>Какой сигнал рукой должен подать велосипедист, чтобы обозначить остановку? А) вытянутая в сторону и согнутая в локте под прямым углом вверх правая рука; Б) поднятая вверх левая или правая рука; В) руки вытянуты в стороны или подняты вверх; Г) вытянутая в сторону и согнутая в локте под прямым углом вверх левая рука</p>	<p>А -</p>
7	<p>Какого вида костра не существует?</p>	

	А) колодец; Б) шалаш; В) луна. Г) таёжный.	В +2
8	К коллективным средствам защиты относят: А) противогазы; Б) противорадиационные укрытия; В) средства защиты кожи; Г) респираторы	В
9	Способ передачи возбудителя гриппа: А) воздушно-капельный; Б) инъекционный; В) контактный; Г) пищевой	А 2 +
10	Наиболее опасный вид кровотечения: А) венозное; Б) артериальное; В) капиллярное	Б 2 +
<p>Определите два правильных ответа За каждый правильный ответ начисляется по 2 балла</p>		
11	Какое положение рук поможет обеспечить личную безопасность в толпе при давке? А) руки находятся возле груди; Б) руки согнуты в локтях; В) руки находятся возле бёдер; Г) руки согнуты в кистях; Д) руки находятся в грудных карманах.	Б 2 +
12	Что из перечисленного есть в углекислотном огнетушителе? А) сифон; Б) баллончик; В) распылитель; Г) запорно-пусковое устройство; Д) насадка	Г, В, Б, А 2 +
13	Какие службы входят в систему обеспечения безопасности города: А) служба городского пассажирского транспорта; Б) служба связи и городская справочная служба; В) «скорая помощь» и служба спасения; Г) метеорологическая служба и служба охраны окружающей среды; Д) пожарная охрана и полиция.	В, Д +
14	Лучшей защитой от смерча являются: А) подвальные помещения; Б) глубокие рвы; В) овраги и котлованы; Г) подземные сооружения; Д) верхние этажи зданий	А, Г +

415	Какое значение имеет жёлтый мигающий сигнал светофора? А) разрешает движение и информирует о наличии нерегулируемого перекрёстка; Б) предупреждает об опасности; В) запрещает движение; Г) разрешает движение.	А, Б †
146	Признаки закрытого перелома конечности: А) сильная боль; Б) нет усиления боли при резком движении; В) зуд в месте повреждения; Г) отёчность в месте повреждения; Д) деформация и отёчность в месте повреждения.	А, Г, Д †
17	Какие узлы предназначены для связывания двух веревок? А) булинь; Б) встречный; В) академический; Г) питона	Б, В †
18	К горючим веществам относятся: А) трудновоспламеняющиеся; Б) взрывоопасные; В) газообразные; Г) легковоспламеняющиеся	Б, Г
19	Из ниже перечисленных объектов выберите те, которые могут являться линейными ориентирами: А) летящий самолет; Б) линии электропередач и дороги; В) граница леса, просека; Г) движущийся автотранспорт и сельскохозяйственная техника.	Б, В †
20	Покрывало спасательное изотермическое накладывается серебристой стороной внутрь (к пострадавшему) при: А) травматическом шоке; Б) тепловом ударе; В) солнечном ударе; Г) значительном повышении температуры тела при инфекционных заболеваниях; Д) переохлаждении	А, Д †

48

За каждый правильный ответ – 2 балла.

За Модуль 2 -60 баллов

За теоретический этап 40+60= 100 баллов

Всего 65 баллов

**ВСЕРОССИЙСКАЯ ОЛИМПИАДА ШКОЛЬНИКОВ ПО ОСНОВАМ
БЕЗОПАСНОСТИ ЖИЗНЕДЕЯТЕЛЬНОСТИ
(МУНИЦИПАЛЬНЫЙ ЭТАП)
ПРАКТИЧЕСКИЙ ТУР
возрастная группа (7-8 классы)**

ЗАДАНИЕ 1

Надевание средств индивидуальной защиты.

№ п/п	Перечень ошибок и погрешностей	Штраф (баллы)
При надевании на себя защитного костюма и противогаза:		
1.	Выбран костюм, не соответствующий росту участника	
2.	Не надет капюшон	
3.	Перчатки не заправлены в рукава	2
4.	Не застёгнуты шпальки на манжетах куртки и чулок	2
При выходе из зоны заражения и снятии средств защиты:		
5.	После выхода из зоны заражения неправильно выбрано направление ветра	2
6.	Каждое касание одеждой и открытыми участками тела внешней стороны средств защиты	2
7.	ОЗК или Л-1 надеты с превышением контрольного времени норматива.	2
	СУММА ШТРАФНЫХ БАЛЛОВ	10
	ИТОГО БАЛЛОВ	10

Оценочные баллы: максимальный – 20 баллов; фактический – 10 баллов

Подписи членов жюри

Труба

ЗАДАНИЕ 2

Перестегивание карабинов с разной конструкцией муфт.

Условия: в обозначенном секторе участнику необходимо перестегнуть и замуфтовать за 1 минуту по одному 6 штук карабинов с разной конструкцией муфт на другую веревку.

Оценка задания. Максимальная оценка за правильно выполненное задание – 10 баллов.

№ п/п	Перечень ошибок и погрешностей	Штраф (баллы)	Количество ошибок (нарушений)

1	Не завинчена муфта карабина	1	
2	Не перестегнут карабин на другую веревку	2	
	ИТОГО БАЛЛОВ		

Оценочные баллы: максимальный – 10 баллов; фактический – 0 баллов

Подписи членов жюри

Жюри

ЗАДАНИЕ 3

Завяжите четыре узла для связывания веревки одинакового диаметра.

Оценка задания. Максимальная оценка за правильно выполненное задание – 20 баллов.

№ п/п	Перечень ошибок и погрешностей	Штраф (баллы)	Количество ошибок (нарушений)
1	Отсутствие контрольного узла	5	
2	Перекручены пряди в узле	3	
3	Неправильно завязан узел	10	
4	Завязан не тот узел	10	
	ИТОГО БАЛЛОВ		

Оценочные баллы: максимальный – 20 баллов; фактический – 0 баллов

Подписи членов жюри

Жюри

ЗАДАНИЕ 4

Мужчина получил удар кулаком в лицо. Асимметрия лица за счёт отёка мягких тканей, гематома в области нижней челюсти, нарушение прикуса, симптом «ступеньки» по нижнечелюстному краю, крепитация отломков.

Задания 1. Определите неотложное состояние пациента.

2. Составьте алгоритм оказания доврачебной помощи.

3. Продемонстрируйте технику наложения повязки – «уздечка».

Оценка задания. Максимальная оценка за правильно выполненное задание – 15 баллов.

№	Перечень ошибок и погрешностей	Штраф	Количество ошибок
---	--------------------------------	-------	-------------------

п/п		(баллы)	(нарушений)
1	Неверно определено неотложное состояние пострадавшего	5	
2	Неверно определен алгоритм оказания первой помощи	5	
3	Неправильная демонстрация повязки уздечка	5	
	ИТОГО БАЛЛОВ		

Оценочные баллы: максимальный – 15 баллов; фактический – 0 баллов

Подписи членов жюри

Турб

ЗАДАНИЕ 5

В результате удара по переносице кулаком началось обильное выделение крови. Пострадавший беспокоен, сплёвывает кровь, частично её проглатывает.

Задания 1. Определите неотложное состояние пациента.

2. Составьте алгоритм оказания доврачебной помощи.

3. Продемонстрируйте технику остановки носового кровотечения.

Оценка задания. Максимальная оценка за правильно выполненное задание – 15 баллов.

№ п/п	Перечень ошибок и погрешностей	Штраф (баллы)	Количество ошибок (нарушений)
1	Неверно определено неотложное состояние пострадавшего	5	
2	Неверно определен алгоритм оказания первой помощи	5	
3	Неправильная демонстрация техники остановки кровотечения	5	
	ИТОГО БАЛЛОВ		<u>5</u>

Оценочные баллы: максимальный – 15 баллов; фактический – 5 баллов

Подписи членов жюри

Турб

ЗАДАНИЕ 6

В школьной столовой у ученицы 8 класса во время торопливой еды и разговора появился судорожный кашель, затруднение дыхания. Её беспокоит боль в области гортани. Пациентка растеряна, говорит с трудом, испытывает страх. Лицо цианотично. Осиплость голоса. Периодически повторяются приступы судорожного кашля и шумное дыхание с затруднением вдоха.

Задания 1. Определите неотложное состояние пациента.

2. Составьте алгоритм оказания доврачебной помощи.

3. Продемонстрируйте технику проведения искусственной вентиляции легких (ИВЛ).

Оценка задания. Максимальная оценка за правильно выполненное задание – 20 баллов.

№ п/п	Перечень ошибок и погрешностей	Штраф (баллы)	Количество ошибок (нарушений)
1	Неверно определено неотложное состояние пострадавшего	5	
2	Неверно определен алгоритм оказания первой помощи	5	
3	Неправильная демонстрация техники проведения искусственной вентиляции легких	10	
	ИТОГО БАЛЛОВ		<i>20</i>

Оценочные баллы: максимальный – 20 баллов; фактический – *20* баллов

Подписи членов жюри

Тулуп

