

ВСЕРОССИЙСКАЯ ОЛИМПИАДА ШКОЛЬНИКОВ ПО ОСНОВАМ
БЕЗОПАСНОСТИ ЖИЗНЕДЕЯТЕЛЬНОСТИ
(МУНИЦИПАЛЬНЫЙ ЭТАП)
ТЕОРЕТИЧЕСКИЙ ТУР
возрастная группа (7-8 классы)

МОДУЛЬ 1

ЗАДАНИЕ 1.

1. Выключить конфорки газовой плиты.
2. Перекрыть газовый кран и отключить его.
3. Если газ продолжает поступать, то надо позвонить по номеру 04(104) - "служба газа". Предупредить соседей по лестничной площадке.

Оценочные баллы: максимальный – 10 баллов; фактический – 8 баллов

Подписи членов жюри 

ЗАДАНИЕ 2

1. Не паниковать.
2. Закрыться в классе-кабинете и подать следующего объявление по устной связи.


Оценочные баллы: максимальный – 5 баллов; фактический – 5 баллов

Подписи членов жюри

ЗАДАНИЕ 3

А	Б	В	Г	Д
2	1	2	2	1

Оценочные баллы: максимальный – 10 баллов; фактический – 8 баллов

Подписи членов жюри 

ЗАДАНИЕ 4

Заполните таблицу «Социальные опасности по природе и форме воздействия на человека»

Примеры	Виды социальных опасностей по природе и форме воздействия на человека
Шантаж, мошенничество, воровство	Обман человека; волеизъявление
Разбой, бандитизм, террор, изнасилование, заложничество	Тяжеский вред людям.
Наркомания, алкоголизм, курение	Зависимость, физиологическое закрепление.
СПИД, венерические заболевания, туберкулез	Передаваемые заболевания.

Дайте определение

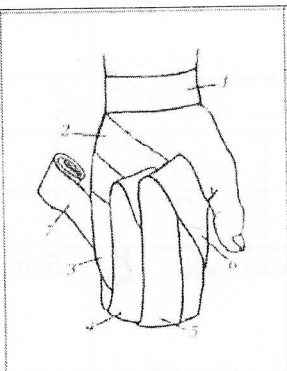
Бандитизму _____

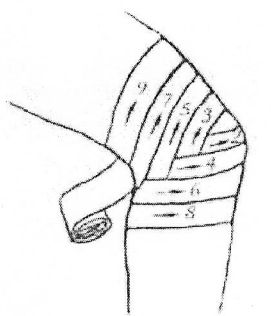
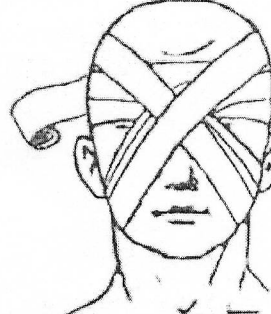
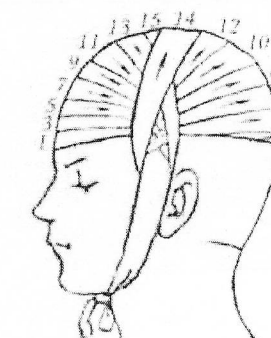
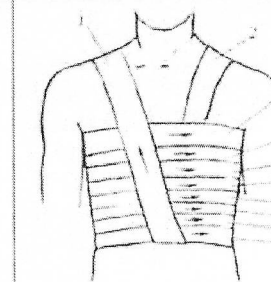
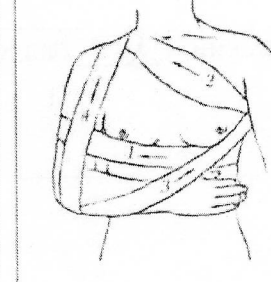
Оценочные баллы: максимальный – 10 баллов; фактический – 0 баллов



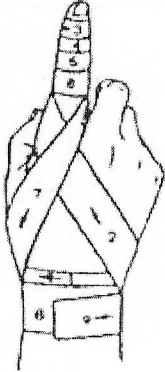

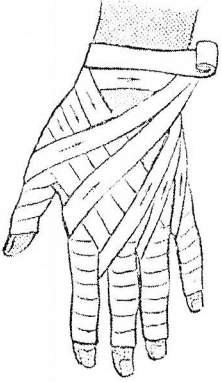

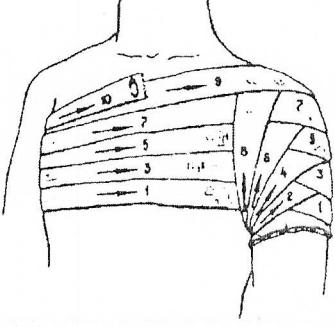

Подписи членов жюри 

ЗАДАНИЕ 5

Заполните таблицу «Виды повязок»

№	Рисунок повязки	Название повязки
1		

2			
3			
4			
5			
6			


7		
8		
9		
10		

Оценочные баллы: максимальный – 10 баллов; фактический – 0 баллов







Подписи членов жюри 

За Модуль 1 – 40 баллов

МОДУЛЬ 2
Тестовые задания

№	Вопрос	Ответ
Определите один правильный ответ За каждый правильный ответ начисляется по 2 балла		
1	1. Вы почувствовали в квартире запах газа. По какому номеру телефона нужно вызвать специалистов по стационарному телефону? А) 03; Б) 04; В) 02.	Б 2
2	Химические и биологические средства, используемые для борьбы с вредителями и болезнями растений, с сорной растительностью называются: А) тяжелые металлы; Б) удобрения; В) пестициды; Г) детергенты	В 2
3	Какой буквой обозначается север на компасах? А) S; Б) N; В) W; Г) E.	Б 2
4	Что такое эпидемия? А) инфекционные заболевания среди людей; Б) заразные болезни среди животных; В) заразные болезни среди растений; Г) отравление вредными веществами; Д) инфекционное заболевание, переносчиком которого является большая панда (бамбуковый медведь).	А 2
5	Где наиболее безопасно находиться во время грозы? А) на возвышенности; Б) у входа в пещеру; В) среди невысоких деревьев с густыми кронами; Г) в скальной яме	
6	Какой сигнал рукой должен подать велосипедист, чтобы обозначить остановку? А) вытянутая в сторону и согнутая в локте под прямым углом вверх правая рука; Б) поднятая вверх левая или правая рука; В) руки вытянуты в стороны или подняты вверх; Г) вытянутая в сторону и согнутая в локте под прямым углом вверх левая рука	А -
7	Какого вида костра не существует?	

	А) колодец; Б) шалаш; В) луна. Г) таёжный.	В 2
8	К коллективным средствам защиты относят: А) противогазы; Б) противорадиационные укрытия; В) средства защиты кожи; Г) респираторы	В
9	Способ передачи возбудителя гриппа: А) воздушно-капельный; Б) инъекционный; В) контактный; Г) пищевой	А 2
10	Наиболее опасный вид кровотечения: А) венозное; Б) артериальное; В) капиллярное	В Б 2
<p>Определите два правильных ответа За каждый правильный ответ начисляется по 2 балла</p>		
11	Какое положение рук поможет обеспечить личную безопасность в толпе при давке? А) руки находятся возле груди; Б) руки согнуты в локтях; В) руки находятся возле бёдер; Г) руки согнуты в кистях; Д) руки находятся в грудных карманах.	В, Д
12	Что из перечисленного есть в углекислотном огнетушителе? А) сифон; Б) баллончик; В) распылитель; Г) запорно-пусковое устройство; Д) насадка	В, Г и
13	Какие службы входят в систему обеспечения безопасности города: А) служба городского пассажирского транспорта; Б) служба связи и городская справочная служба; В) «скорая помощь» и служба спасения; Г) метеорологическая служба и служба охраны окружающей среды; Д) пожарная охрана и полиция.	Г, Д 2
14	Лучшей защитой от смерча являются: А) подвальные помещения; Б) глубокие рвы; В) овраги и котлованы; Г) подземные сооружения; Д) верхние этажи зданий	А, Г и

415	<p>Какое значение имеет жёлтый мигающий сигнал светофора?</p> <p>А) разрешает движение и информирует о наличии нерегулируемого перекрёстка;</p> <p>Б) предупреждает об опасности;</p> <p>В) запрещает движение;</p> <p>Г) разрешает движение.</p>	
146	<p>Признаки закрытого перелома конечности:</p> <p>А) сильная боль;</p> <p>Б) нет усиления боли при резком движении;</p> <p>В) зуд в месте повреждения;</p> <p>Г) отёчность в месте повреждения;</p> <p>Д) деформация и отёчность в месте повреждения.</p>	
17	<p>Какие узлы предназначены для связывания двух веревок?</p> <p>А) булинь;</p> <p>Б) встречный;</p> <p>В) академический;</p> <p>Г) питона</p>	
18	<p>К горючим веществам относятся:</p> <p>А) трудновоспламеняющиеся;</p> <p>Б) взрывоопасные;</p> <p>В) газообразные;</p> <p>Г) легковоспламеняющиеся</p>	
19	<p>Из ниже перечисленных объектов выберите те, которые могут являться линейными ориентирами:</p> <p>А) летящий самолет;</p> <p>Б) линии электропередач и дороги;</p> <p>В) граница леса, просека;</p> <p>Г) движущийся автотранспорт и сельскохозяйственная техника.</p>	
20	<p>Покрывало спасательное изотермическое накладывается серебристой стороной внутрь (к пострадавшему) при:</p> <p>А) травматическом шоке;</p> <p>Б) тепловом ударе;</p> <p>В) солнечном ударе</p> <p>Г) значительном повышении температуры тела при инфекционных заболеваниях;</p> <p>Д) переохлаждении</p>	

Всего 54 балла

За каждый правильный ответ – 2 балла.

За Модуль 2 -60 баллов

За теоретический этап 40+60= 100 баллов

**ВСЕРОССИЙСКАЯ ОЛИМПИАДА ШКОЛЬНИКОВ ПО ОСНОВАМ
БЕЗОПАСНОСТИ ЖИЗНЕДЕЯТЕЛЬНОСТИ
(МУНИЦИПАЛЬНЫЙ ЭТАП)
ПРАКТИЧЕСКИЙ ТУР
возрастная группа (7-8 классы)**

ЗАДАНИЕ 1

Надевание средств индивидуальной защиты.

№ п/п	Перечень ошибок и погрешностей	Штраф (баллы)
При надевании на себя защитного костюма и противогаза:		
1.	Выбран костюм, не соответствующий росту участника	
2.	Не надет капюшон	
3.	Перчатки не заправлены в рукава	2
4.	Не застёгнуты шпальки на манжетах куртки и чулок	
При выходе из зоны заражения и снятии средств защиты:		
5.	После выхода из зоны заражения неправильно выбрано направление ветра	
6.	Каждое касание одеждой и открытыми участками тела внешней стороны средств защиты	2
7.	ОЗК или Л-1 надеты с превышением контрольного времени норматива.	
	СУММА ШТРАФНЫХ БАЛЛОВ	2
	ИТОГО БАЛЛОВ	6 10

Оценочные баллы: максимальный – 20 баллов; фактический – 14 баллов

Подписи членов жюри

Гриб

ЗАДАНИЕ 2

Перестегивание карабинов с разной конструкцией муфт.

Условия: в обозначенном секторе участнику необходимо перестегнуть и замуфтовать за 1 минуту по одному 6 штук карабинов с разной конструкцией муфт на другую веревку.

Оценка задания. Максимальная оценка за правильно выполненное задание – 10 баллов.

№ п/п	Перечень ошибок и погрешностей	Штраф (баллы)	Количество ошибок (нарушений)

1	Не завинчена муфта карабина	1	
2	Не перестегнут карабин на другую веревку	2	
	ИТОГО БАЛЛОВ		0

Оценочные баллы: максимальный – 10 баллов; фактический – 0 баллов

Подписи членов жюри

Григорьев

ЗАДАНИЕ 3

Завяжите четыре узла для связывания веревки одинакового диаметра.

Оценка задания. Максимальная оценка за правильно выполненное задание – 20 баллов.

№ п/п	Перечень ошибок и погрешностей	Штраф (баллы)	Количество ошибок (нарушений)
1	Отсутствие контрольного узла	5	
2	Перекручены пряди в узле	3	3
3	Неправильно завязан узел	10	
4	Завязан не тот узел	10	1
	ИТОГО БАЛЛОВ		16

Оценочные баллы: максимальный – 20 баллов; фактический – 16 баллов

Подписи членов жюри

Григорьев

ЗАДАНИЕ 4

Мужчина получил удар кулаком в лицо. Асимметрия лица за счёт отёка мягких тканей, гематома в области нижней челюсти, нарушение прикуса, симптом «ступеньки» по нижнечелюстному краю, крепитация отломков.

Задания 1. Определите неотложное состояние пациента.

2. Составьте алгоритм оказания доврачебной помощи.

3. Продемонстрируйте технику наложения повязки – «уздечка».

Оценка задания. Максимальная оценка за правильно выполненное задание – 15 баллов.

№	Перечень ошибок и погрешностей	Штраф	Количество ошибок
---	--------------------------------	-------	-------------------

п/п		(баллы)	(нарушений)
1	Неверно определено неотложное состояние пострадавшего	5	
2	Неверно определен алгоритм оказания первой помощи	5	
3	Неправильная демонстрация повязки уздечка	5	
	ИТОГО БАЛЛОВ		

Оценочные баллы: максимальный – 15 баллов; фактический – 0 баллов

Подписи членов жюри

Жюри

ЗАДАНИЕ 5

В результате удара по переносице кулаком началось обильное выделение крови. Пострадавший беспокоен, сплёвывает кровь, частично её проглатывает.

Задания 1. Определите неотложное состояние пациента.

2. Составьте алгоритм оказания доврачебной помощи.

3. Продемонстрируйте технику остановки носового кровотечения.

Оценка задания. Максимальная оценка за правильно выполненное задание – 15 баллов.

№ п/п	Перечень ошибок и погрешностей	Штраф (баллы)	Количество ошибок (нарушений)
1	Неверно определено неотложное состояние пострадавшего	5	
2	Неверно определен алгоритм оказания первой помощи	5	
3	Неправильная демонстрация техники остановки кровотечения	5	
	ИТОГО БАЛЛОВ		

Оценочные баллы: максимальный – 15 баллов; фактический – 0 баллов

Подписи членов жюри

Жюри

ЗАДАНИЕ 6

В школьной столовой у ученицы 8 класса во время торопливой еды и разговора появился судорожный кашель, затруднение дыхания. Её беспокоит боль в области гортани. Пациентка растеряна, говорит с трудом, испытывает страх. Лицо цианотично. Осиплость голоса. Периодически повторяются приступы судорожного кашля и шумное дыхание с затруднением вдоха.

Задания 1. Определите неотложное состояние пациента.

2. Составьте алгоритм оказания доврачебной помощи.

3. Продемонстрируйте технику проведения искусственной вентиляции легких (ИВЛ).

Оценка задания. Максимальная оценка за правильно выполненное задание – 20 баллов.

№ п/п	Перечень ошибок и погрешностей	Штраф (баллы)	Количество ошибок (нарушений)
1	Неверно определено неотложное состояние пострадавшего	5	
2	Неверно определен алгоритм оказания первой помощи	5	
3	Неправильная демонстрация техники проведения искусственной вентиляции легких	10	
	ИТОГО БАЛЛОВ		10

Оценочные баллы: максимальный – 20 баллов; фактический – 10 баллов

Подписи членов жюри

Жюри

